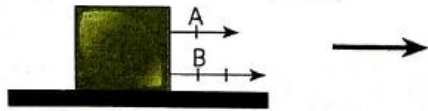


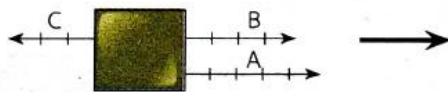
กิจกรรมตรวจสอบความเข้าใจที่ 3.2

1. จากภาพ จงหาแรงลัพธ์โดยวิธีการสร้างรูป

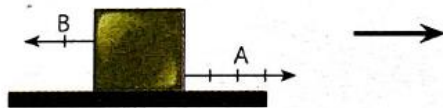
1.1



1.2

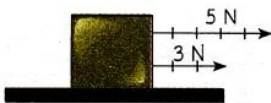


1.3



2. จงหาขนาดและทิศทางแรงลัพธ์จากภาพโดยวิธีการคำนวณ

2.1



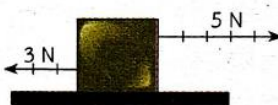
.....

.....

.....

.....

2.2



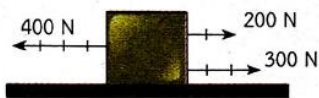
.....

.....

.....

.....

2.3




.....

.....

.....

.....

2.4



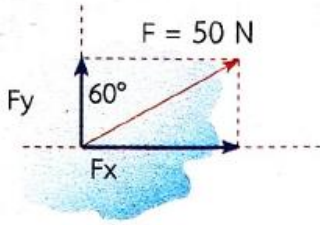
.....

.....

.....

.....

3. จงหาแรงย่อยในแนวแกน x และแกน y

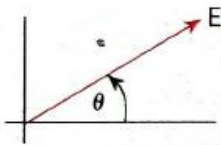


แนวแกน x

แนวแกน y

.....
.....

4. แรง E มีค่า 40 นิวตัน ทำมุม 30 องศา จงหาแรงย่อยในแนวแกน x และแกน y



แนวแกน x

แนวแกน y

.....
.....