













กิจกรรมตรวจสอบความเข้าใจที่ 4.3

1. เครื่องใช้ไฟฟ้าต่อไปนี้มีการเปลี่ยนพลังงานไฟฟ้าเป็นพลังงานชนิดใด

			
1.1	1.2	1.3	1.4
			
1.5	1.6	1.7	1.8
			
1.9	1.10	1.11	1.12

2. เพื่อประหยัดพลังงานของชาติและค่าใช้จ่ายของครอบครัว ท่านจะเลือกใช้หลอดไฟฟ้าประเภทใด

3. จากภาพ จงชี้บอกส่วนประกอบที่เป็นตัวหลอด สตาร์ทเตอร์ และแบล็กส์ต ของหลอดฟลูออโรเรสเซนต์

