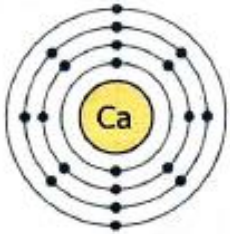
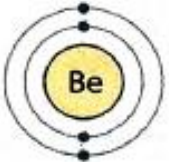
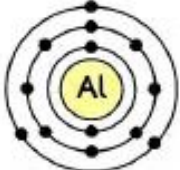
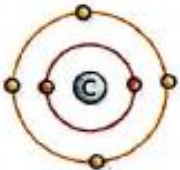

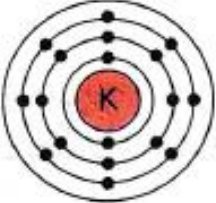
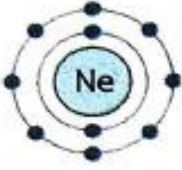





กิจกรรมตรวจสอบความเข้าใจที่ 6.4

1. จากแผนภาพ การจัดเรียงอิเล็กตรอนของธาตุ จงบอกตำแหน่งของธาตุต่อไปนี้ในตารางธาตุ

แผนภาพ	ชื่อธาตุ	การจัดเรียงอิเล็กตรอน	ตำแหน่งของธาตุ
			คาบที่ หมู่
			คาบที่ หมู่
			คาบที่ หมู่
			คาบที่ หมู่
			คาบที่ หมู่

แผนภาพ	ชื่อธาตุ	การจัดเรียงอิเล็กตรอน	ตำแหน่งของธาตุ
			คาบที่ หมู่
			คาบที่ หมู่
			คาบที่ หมู่
			คาบที่ หมู่
			คาบที่ หมู่